











3. Egy országút szélén egymástól egyenlő távolságra 11 fa áll. Tudjuk, hogy a negyedik és a hetedik fa között 12 m a távolság.  
Hány méter az első és utolsó fa közötti távolság? Számolj, rajzzal, jelöléssel indokold állításodat!



9	
---	--


4. Tegyéél gondolatban a mérlegre 2 adag gyümölcsöt úgy, hogy a tömegük összesen 1 kg-nál kevesebb legyen!  
Töltsd ki a táblázatot a megadott példa szerint!

1 adag	1 adag	1 adag	1 adag	1 adag	1 adag	1 adag
50 dkg	1 kg	20 dkg	15 dkg	35 dkg	75 dkg	fél kg
						
A	M	SZ	C	K	D	B

<b>1 kg &gt;</b>	A+SZ				
	50 dkg + 20 dkg				
	70 dkg				

8	
---	--

5. A domboldalon 24 gyerek szánkózik. Hattal több fiú, mint lány.  
Hány fiú szánkózik a domboldalon, ha 1 szánkóval három fiú csúszik le?



8	
---	--

