


3. Egy cég nyereségének negyed részét fejlesztésre, 10%-át reklámra, $\frac{1}{5}$ -szörösét a dolgozók továbbképzésére fordította. A maradék 3,5 millió Ft-ot jutalomként osztották ki.

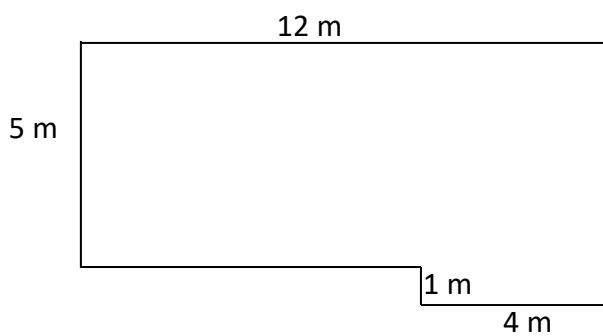
a) Hány Ft volt a cég nyeresége?

b) A nyereségnek hány százalékát fordították jutalmazásra?



6	
---	--


4. Egy terem alaprajza a következő:



Hány m^3 levegő fér a terembe, ha a magassága 2,5 m?

Számolj!

(A rajz csak vázlat, nem méretarányos!)



5	
---	--

