





5. Régen az egyik tanévben

a nyári szünet az év  $\frac{1}{5}$  része volt,


a téli szünet az év  $\frac{1}{30}$  része volt,

a tavaszi szünet az év  $\frac{1}{45}$  része volt,

a szombatok és vasárnapok az év  $\frac{2}{9}$  részét tették ki.


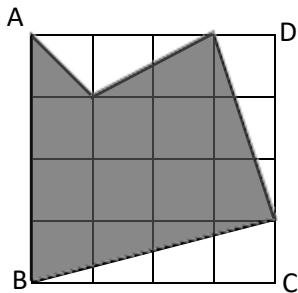
Hány nap volt ebben az évben a nyári szünet?

Hányad része volt az egész évnek a tanítási napok száma?



6

6. Számítsd ki az ábrán látható ötszög területét! (A kis négyzetek oldala a valóságban 10,5 cm.)



11

